

Overheid 4

1. Mensen die een erfenis ontvangen (erfgenamen) moeten over die erfenis belasting betalen. We noemen dit successierechten.
Voor de partner van de overledene kent deze belasting een vrijstelling van € 600.000,-
Voor de kinderen van de overledene geldt een vrijstellingsbedrag van € 19.000,-.
Zowel voor de partner als voor de kinderen geldt dat de eerste € 125.000 van de belastbare erfenis belast wordt met 10% terwijl bedragen daarboven met 20% belast worden. Leg uit dat het tarief van dit stelsel progressief is.

We spreken van een progressief stelsel als de gemiddelde belastingdruk stijgt als de erfenis groter is. De gemiddelde belastingdruk is de te betalen belasting gedeeld door de totale erfenis. Deze verhouding is inderdaad groter bij een grotere erfenis.

2. Bereken de gemiddelde belastingdruk voor een kind bij een erfenis van € 45.000,-

Erfenis	€ 45.000
Vrijstelling	<u>€ 19.000</u>

Belastbare erfenis € 26.000

Belasting 10% van € 26.000 = € 2.600

Gemiddelde belastingdruk = $\frac{2600}{45000} = 0,06$

De belastingdruk bedraagt dus 6%

3. Wat is de gemiddelde belastingdruk voor een kind bij € 90.000

Erfenis	€ 90.000
Vrijstelling	<u>€ 19.000</u>

Belastbare erfenis € 71.000

Belasting 10% van € 71.000 = € 7.100

Gemiddelde belastingdruk = $\frac{7100}{90000} = 0,08$

De belastingdruk bedraagt dus 8%

4. Wat is de gemiddelde belastingdruk voor een kind bij € 170.000

Erfenis	€ 170.000
Vrijstelling	<u>€ 19.000</u>

Belastbare erfenis € 151.000

Belasting 10% van € 125.000 = € 12.500

Belasting 20% van € 26.000 = € 5.200

Totaal € 17.700

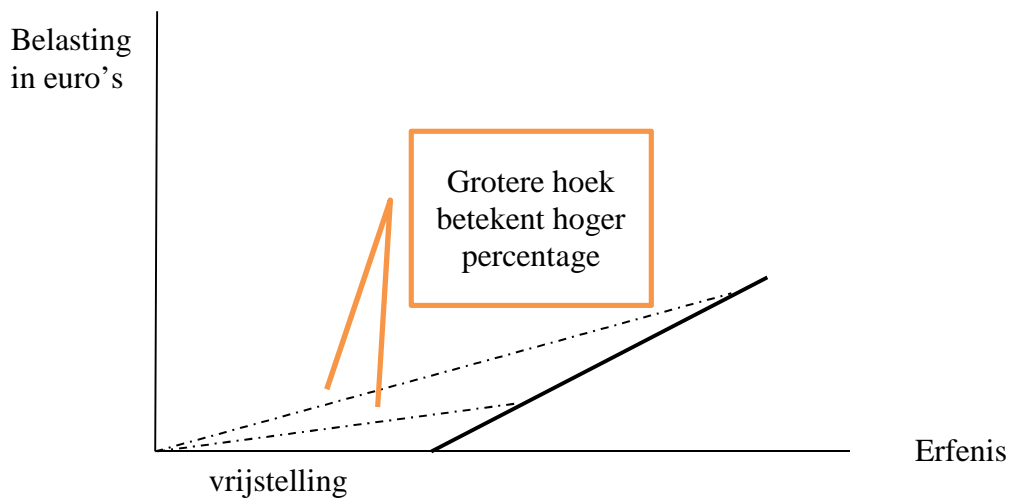
Gemiddelde belastingdruk = $\frac{17700}{170000} = 0,10$

De belastingdruk bedraagt dus 10%

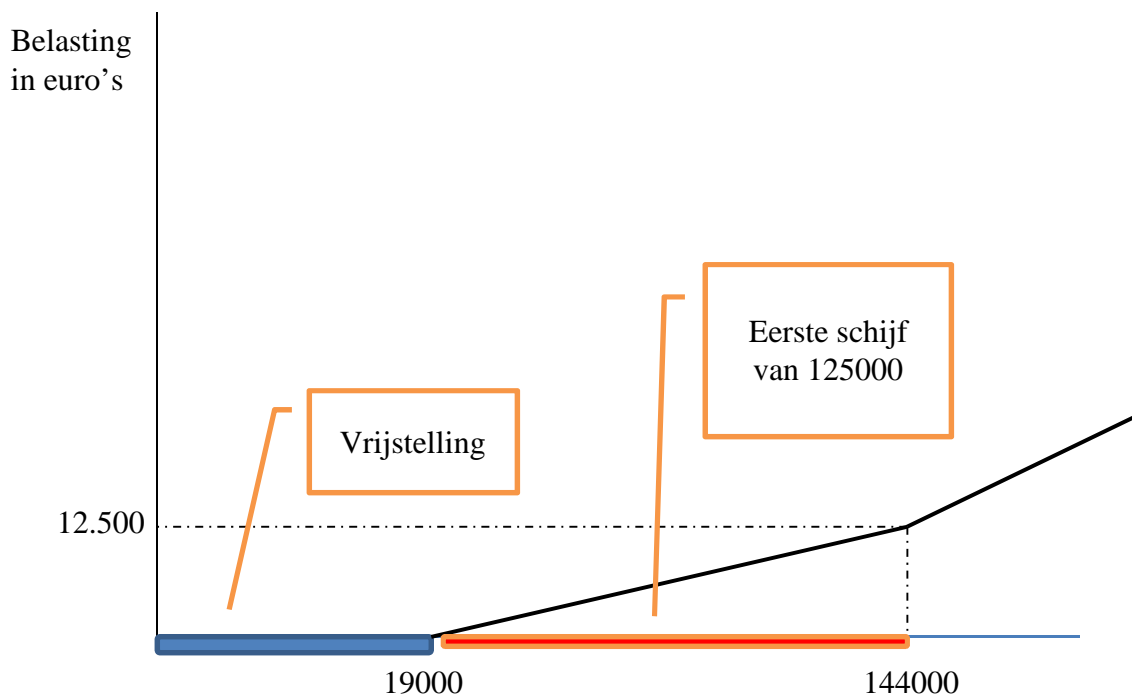
5. Is het stelsel ook progressief als de belastbare erfenis slechts met één tarief belast wordt?

Ja, ook dan is het stelsel progressief. Immers door de vrijstelling wordt de belastingdruk steeds groter naarmate de erfenis hoger is.

6. Laat met behulp van een grafiek zien dat de belastingdruk groter wordt bij een uniform tarief met een vrijstelling.



7. Hoe ziet de grafiek van de te betalen belasting voor een kind er uit voor het beschreven stelsel?



8. Waarom betaalt een kind over een erfenis van € 144000,- een bedrag van € 12.500,- aan successierechten?

Omdat de eerste € 19.000,- onbelast zijn en hij over de overige € 125.000,- 10% belasting betaalt.

9. Stel dat de erfenis € 100 meer was geweest. Hoeveelbelasting had hij dan over deze €100 betaald?

Over deze € 100,- extra erfenis had hij dan € 20,-belasting betaalt.

10. Wat is dus het marginaal tarief?

20%

11. Wat is het verschil tussen ontwijken van belasting en ontduiken van belasting?

Bij belastingontwijking probeer je, binnen de ruimte die de wet je geeft, zo min mogelijk belasting te betalen. Bij belastingontduiking doe je dat ook maar niet meer binnen de ruimte die de wet je geeft. Belastingontduiking is dus illegaal.

12. Vooral bij de inkomstenbelasting is de kans groot dat dalende toptarieven zullen leiden tot een hogere belastingopbrengst. Geef hiervoor een verklaring.

Als mensen worden geconfronteerd met hogere tarieven zullen zij meer werk gaan maken van het ontwijken en ontduiken van de belasting. Omdat er dan minder inkomen opgegeven wordt zou de totale opbrengst aan belasting, ondanks het hogere tarief, kunnen dalen.

13. Belasting wordt geheven volgens verschillende principes. Bij de successierechten is het principe (of beginsel) van bevoorrechte verkrijging van vrij belangrijk. Leg uit op welke manier.

Het principe van bevoorrechte verkrijging houdt in dat iets belast wordt als het makkelijk is verkregen. Voor een erfenis heb je niets hoeven doen. Dit principe wordt bij de successierechten derhalve toegepast.

14. Andere principes zijn: Rechtvaardigheidsbeginsel, Welvaartsbeginsel en Profijtbeginsel. Wat houden deze principes in?

Rechtvaardigheidsbeginsel: de sterkste schouders dragen de zwaarste lasten.

Welvaartsbeginsel: de heffing moet het welvaartsverlies minimaliseren.

Profijtbeginsel: degene die van een dienst van de overheid profiteert moet daarvoor betalen.

15. Beginsels kunnen meer of minder doorgevoerd zijn in een belastingstelsel. In welke belasting is het rechtvaardigheidsbeginsel sterk doorgevoerd?

In de inkomstenbelasting. Immers we kennen daar vier schijven. Hoe meer je verdient hoe hoger het percentage belasting dat je moet betalen.

16. Noem een belasting waarin het profijtbeginsel sterk is doorgevoerd.

De motorrijtuigenbelasting. Immers alleen de mensen die profiteren van de wegen (dus zij met een motorrijtuig) betalen deze belasting.

17. Hoe zou dit principe met betrekking tot het gebruik van wegen nog verder doorgevoerd kunnen worden?

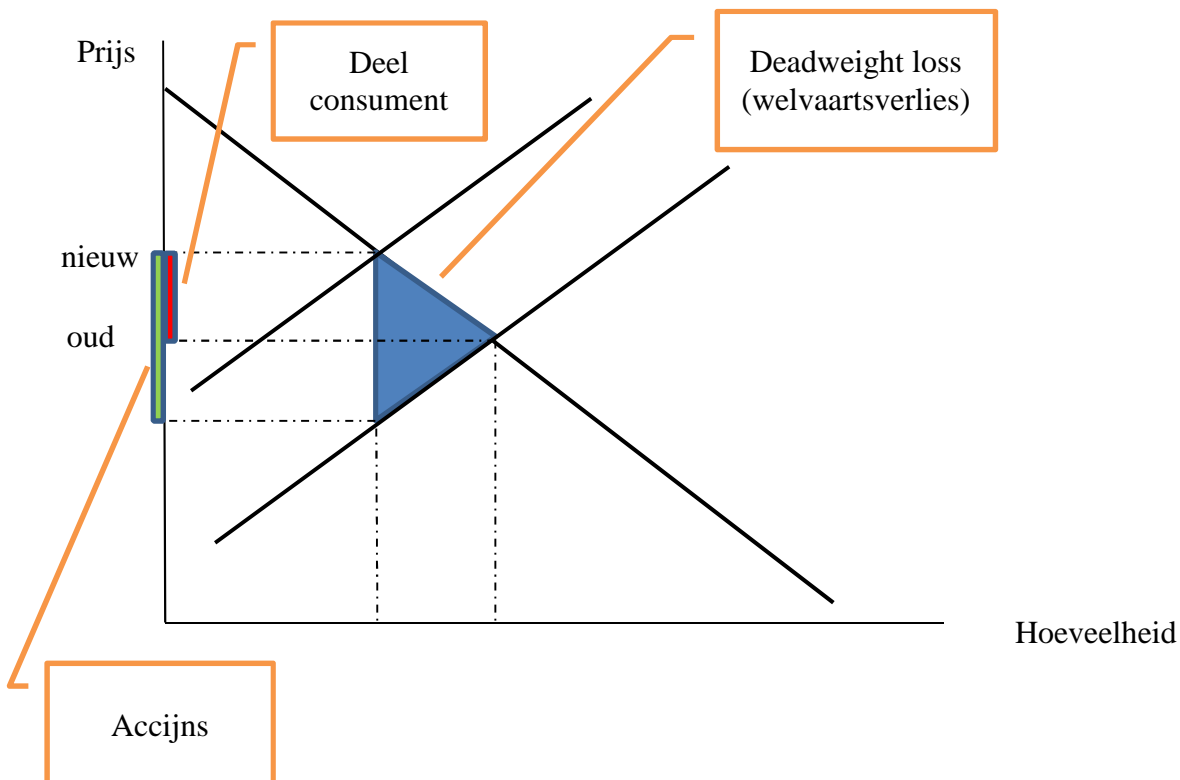
Door belasting te heffen op het gebruik van brandstof. Immers dan betaal je meer belasting als je meer gebruik maakt van het wegennet. Rekeningrijden is ook een goede manier. Dan betaal je echt per kilometer.

18. Leg uit hoe het heffen van accijnzen en BTW het welvaartsbeginsel schendt.

Heffingen op de aankoop van goederen veroorzaakt deadweight loss. Dit is een verlies aan welvaart. Het surplus van de consument en de producent wordt immers kleiner.

19. Laat in een grafiek zien dat het instellen van een accijns leidt tot deadweight loss.

Geef ook aan wat de oude en wat de nieuwe prijs is en welk deel van de accijns door de consument wordt betaald.



20. Laat in de grafiek zien wat de opbrengst is voor de overheid

21. Geef ook aan wat de oude en wat de nieuwe prijs is en welk deel van de accijns door de consument wordt betaald.

