

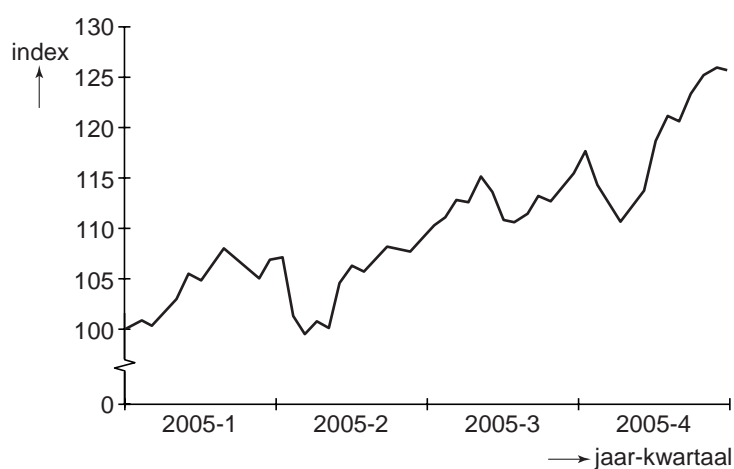
Opgave 4

Een goed jaar

In 2005 klonk de economie van de eurozone uit een conjunctureel dal. Het consumentenvertrouwen en het producentenvertrouwen herstelden zich en ook het rentepeil en de eurokoers droegen bij aan een gunstig ondernemingsklimaat. Beursgenoteerde bedrijven hebben van deze ontwikkeling geprofiteerd: bedrijfswinsten en aandelenkoersen stegen flink. Een analist probeert aan de hand van de onderstaande grafieken de ontwikkeling van de aandelenkoersen, de ontwikkeling van de eurokoers en de ontwikkeling van de rente in de eurozone met elkaar in verband te brengen.

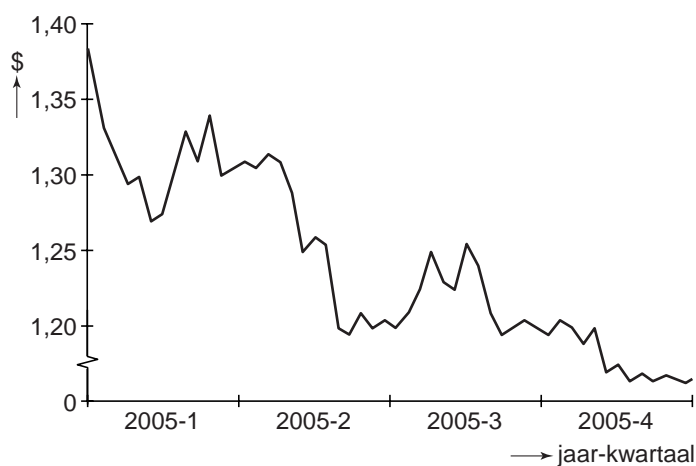
figuur 1

index aandelenkoersen eurozone



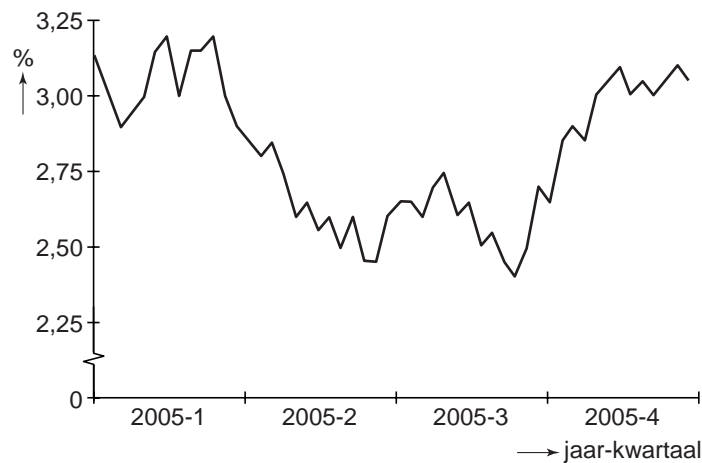
figuur 2

koers van de euro in dollars



figuur 3

rente in eurozone



De analist ziet een oorzakelijk verband tussen de ontwikkeling van de koers van de euro (figuur 2) en de ontwikkeling van de aandelenkoersen (figuur 1).

2p **14** Geef een verklaring voor dit verband.

Volgens de analist kwam de rentestijging in de eurozone in het vierde kwartaal van 2005 goed uit omdat de ontwikkeling in figuur 1 wijst op een toenemend inflatiegevaar.

2p **15** Geef op basis van de ontwikkeling in figuur 1 een verklaring voor dat toenemend inflatiegevaar.

In het algemeen is er sprake van een positief verband tussen de ontwikkeling van de rente in de eurozone en de ontwikkeling van de eurokoers. Dat dit positieve verband in het vierde kwartaal van 2005 niet zichtbaar was, schrijft de analist onder meer toe aan de ontwikkeling van de olieprijs. Olie wordt op de internationale oliemarkt afgerekend in dollars.

2p **16** Geef een verklaring voor het bedoelde positieve verband tussen rente en eurokoers.

2p **17** Is de olieprijs in dollars in het vierde kwartaal van 2005 gedaald of gestegen? Verklaar het antwoord.